



Délka: 34 km

Čas: 100 minut

Autor: Jarda Marek

Start: ČK1 Pátek

Cíl: ČK Brňany

Rozhodčí: Zdeněk Jíše

Jste na startu druhé etapy dnešní soutěže, nyní si společně prohlédněte obdržovaný mapový podklad a itinerář. Nezapomeňte, že jezdíte pouze po komunikacích, které jsou černě zvýrazněné v podkladech. V této etapě pojedete krátký úsek dle čteného itineráře, následně budete projíždět kóty v základní mapě v pořadí zadaném v iti.

Informace: Kóta 204 je sdílená pro obě části základní mapy.

Vložený itinerář 1: Za každým železničním přejezdem jed' vždy VLEVO a jen po asfaltu!


Detaily
M 5
1 cm = 50 m

Detail
M 10
1 cm = 100 m

Od startu dojedeš k hospodě. Na téčku určitě nejezdi tam, kde může padat listí. Pokračuj směrem na vlakovou stanici, tady se listí už nevyhneš. Přes koleje nejezdi, ale odboč směrem k dalšímu železničnímu přejezdu (tento úsek není po asfaltu). Na další možnosti odboč vpravo. Asi po 1 km v obci Stradonice míjíš dvě haly po pravé ruce. Dále jed' směř

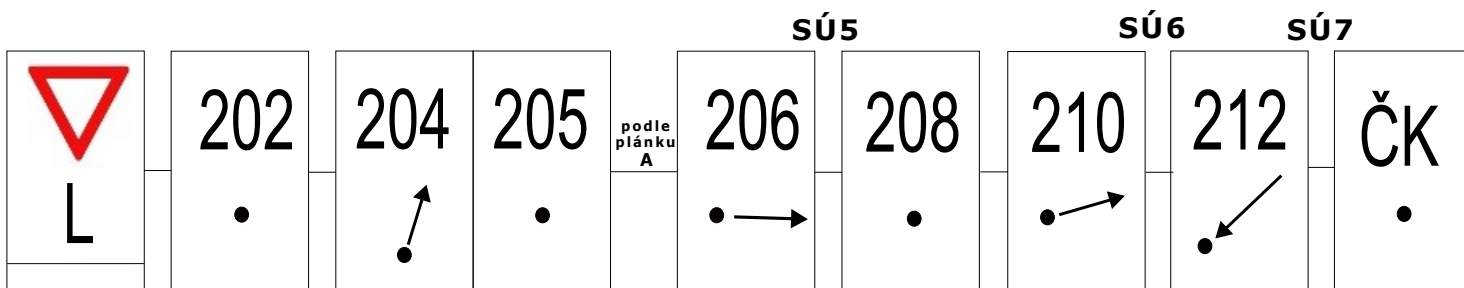


Poté pokračuj, dokud nepřijedeš po delší době na  Za ní jed' ze svahu.

Za dopravní značkou  odboč vpravo na kamenný mostek, zaparkuj na malém parkovišti vlevo a splň **SÚ4** u Oldřichova dubu, který je v mapě vyznačen takto:



Poté se vrať zpět na silnici, ze které jsi odbočil vpravo a pokračuj směrem do kopce. Opusť hlavní silnici (kóta 200) a dále již pokračuj podle zadání itineráře.



SÚ4: Z informačních panelů krytých stříškou umístěných v okolí Oldřichova dubu opiš nadmořskou výšku tohoto místa.

Pokud bude parkoviště u dubu obsazené, popojed' kousek směrem ke kótě 200 a vlevo najdeš parkovací záliv.

SÚ5: Poptáváš hutní materiál od společnosti ECOWELD. Kolikrát se vyskytuje číslice 8 v telefonickém kontaktu na prodejnu?

SÚ6: V jakém stavebním stylu byla postavena sokolovna v obci Brozany nad Ohří?

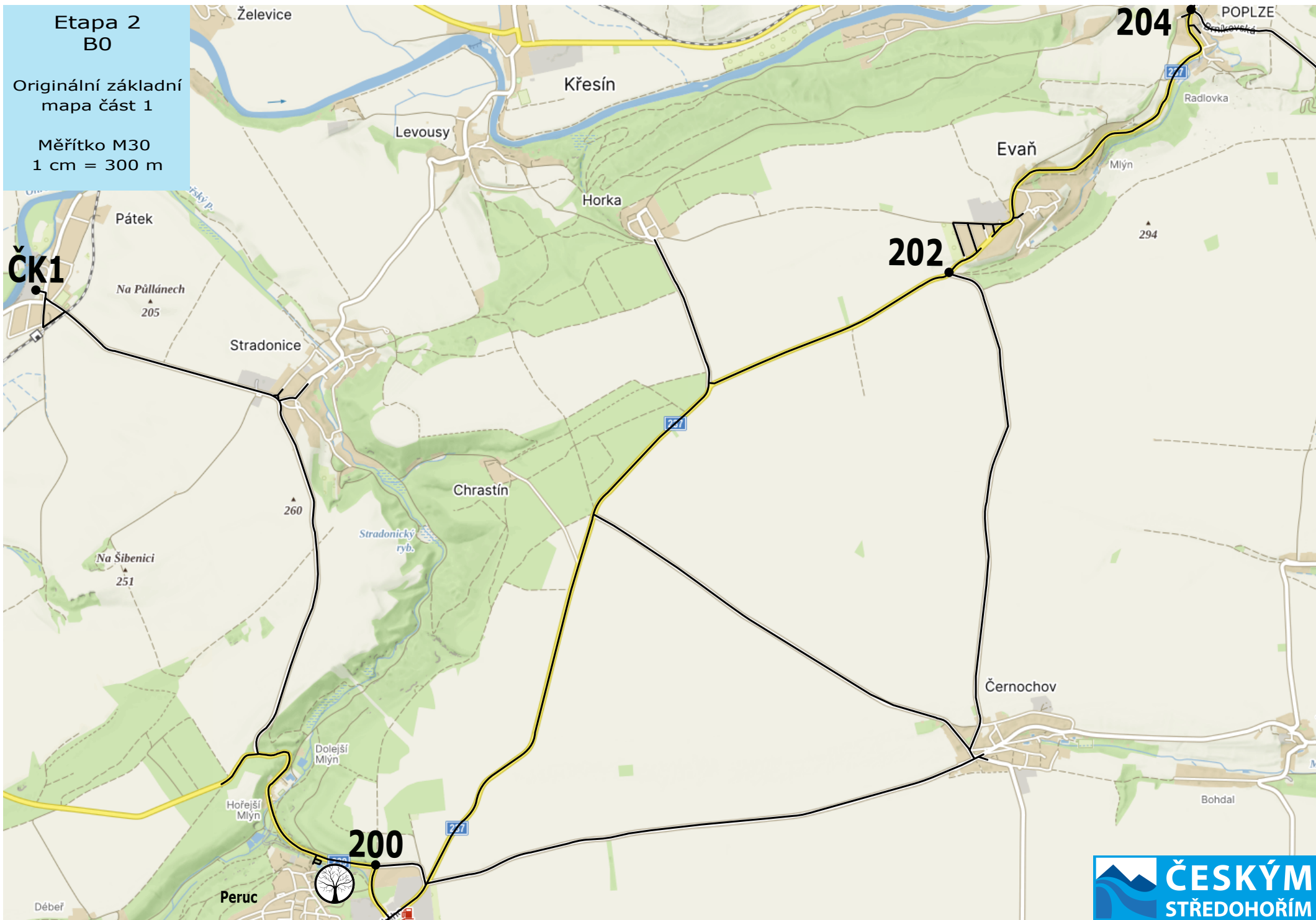
SÚ7: Zjisti a zapiš, zda byly Brozany nad Ohří vyhlášeny Vesnicí roku Ústeckého okresu za rok 2006.

**Etapa 2
B0**

Originální základní
mapa část 1

Měřítko M30
1 cm = 300 m

ČK1



Etapa 2
B0

Originální základní
 mapa část 2

Měřítko M40
 1 cm = 400 m

Počet šipek
 v mapě a plánu: 3

